


Vraag 1

Voor het blikgooien heeft Semra 20 blikken nodig.
Hoeveel blikken komt ze nog tekort?



Vraag 2

Er liggen 14 appels in de mand. Stefan eet 8 appels op.
Hoeveel appels blijven er dan nog over?



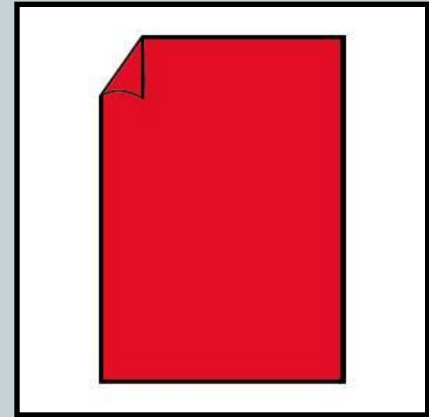
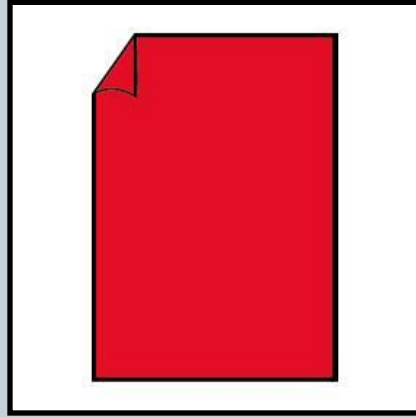
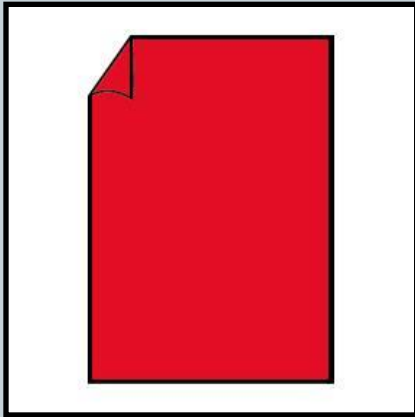
Vraag 3

André koopt 8 peren. Ben koopt er 4 meer.
Hoeveel peren koopt Ben?



Vraag 4

Ieder papier wordt in 5 stukken gescheurd. Hoeveel
stukken zijn dat samen?



Vraag 5

Jorien, Elske en Ilse eten elk 3 boterhammen. Hoeveel boterhammen eten ze in totaal?

