

Vraag 1

In de kast liggen 5 schriften. Onder de kast liggen 14 schriften. Hoeveel schriften zijn er in totaal?



Vraag 2

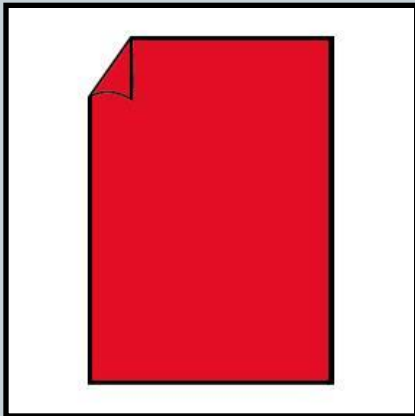
Wat is het laagste getal in de rij?



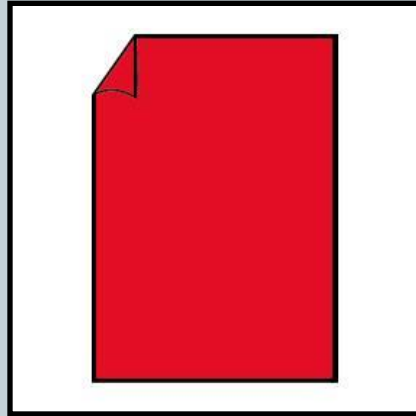
12 – 18 – 6 – 29 – 16 – 8

Vraag 3

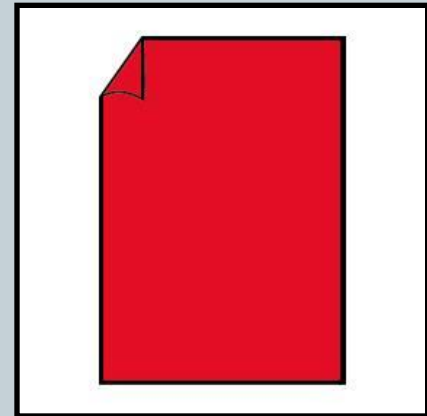
Ieder boekje heeft 6 bladzijden. Hoeveel bladzijden hebben alle boekjes samen?



6 bladzijden



6 bladzijden



6 bladzijden

Vraag 4

Hoeveel blokjes zijn in totaal gebruikt?

